

GUÍA GEOGRAFÍA GRADO 7 AC

LECCIÓN 9 LOS CLIMAS Y PAISAJES DE ESPAÑA. EL ESTUDIO FÍSICO DE ESPAÑA.

NOMBRE Y APELLIDOS _____

Fecha de inicio _____ Fecha de terminación _____

Examen _____

Un clima templado (96)

1-Aclara estas palabras, y escribe dos oraciones. Las palabras que sabes, no debes aclararlas, solo firma en su espacio.

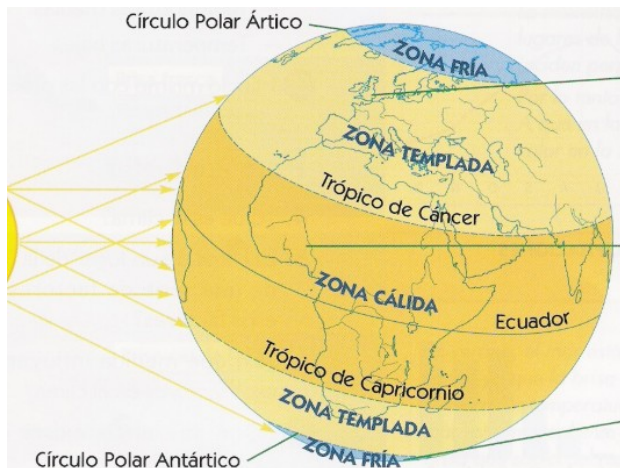
Clima: conjunto de condiciones atmosféricas que caracterizan un lugar. _____

Temperatura: es la cantidad de calor que contiene el aire de la atmósfera. _____

Precipitaciones: son el agua que cae a la superficie terrestre procedente de la atmósfera. Puede caer en estado líquido o sólido _____

2-Lee el primer párrafo _____

3-Observa en la imagen donde está España _____



4-Lee los tres puntos _____

5-Haz un bosquejo de cada punto _____

La España atlántica

6-Lee el primer párrafo _____

7-Dibuja un mapa de España representando la zona del clima oceánico _____

8-Haz un bosquejo de sus temperaturas y precipitaciones_____

9-Lee el segundo párrafo_____ -

10-Haz un bosquejo de sus árboles de hoja caduca (fíjate en las imágenes)



11-Escribe que fruto da el castaño, para que se utilizan el roble y la haya _____

La España mediterránea

12-Lee el primer párrafo_____

13-Dibuja un mapa de España representando la zona del clima mediterráneo en el este, sur, interior y Baleares_____



14-Dibuja un mapa de España representando la zona del clima mediterráneo de costa_____ -

15-Haz un bosquejo de precipitaciones escasas e irregulares _____

16-Haz un bosquejo de temperaturas en la costa suaves, y en la Meseta son extremas o sea muy cálidas en verano y muy frías en invierno_____

17-Lee el último párrafo_____

18-Haz un bosquejo de sus árboles de hoja perenne (fíjate en las imágenes)



19-Escribe que fruto da la encina, para que se utiliza el alcornoque, el tomillo y el pino carrasco_____

La España subtropical

20-Lee todo _____

21-Dibuja un mapa de España representando la zona del clima subtropical_____

22-Haz un bosquejo de las temperaturas y precipitaciones_____

23-Haz un bosquejo de las especies vegetales _____



drago



laurisilva



palmera canaria



pino canario

24-Escribe para que se utiliza el drago, la palmera canaria, pino canario_____

25-Haz los ejercicios de la página 97_____

EXAMEN